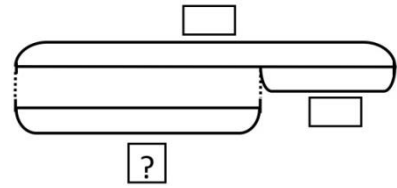


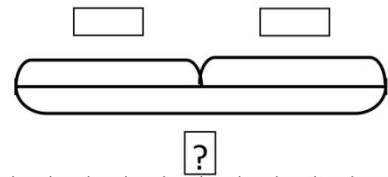
# Рабочий лист

## Решай задачи!

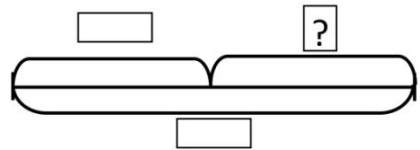
Мама испекла 9 пирожков, а булочек – на 2 меньше. Сколько булочек испекла мама?



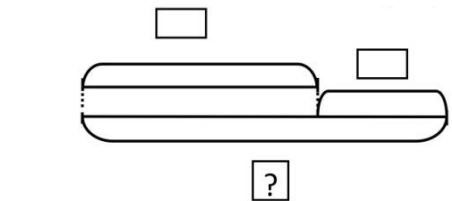
•  
Ответ:



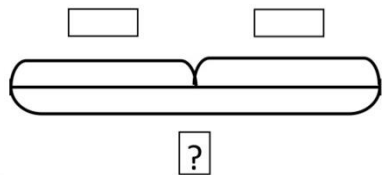
•  
Ответ:



•  
Ответ:



•  
Ответ:



•  
Ответ:


На столе стоит 7 блюдец и 2 чашки. Сколько предметов на столе?



6 котят пили молоко из блюдца. Потом 2 котёнка ушли. Сколько котят осталось пить молоко?



В большой башне 8 окон, а в маленькой башне на 2 окна больше. Сколько окон в маленькой башне?



В классе бегом занимались 6 мальчиков и 3 девочки. Сколько детей занималось бегом?

